

Cuaderno de Vacaciones



1. Completa.

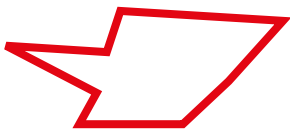
10 unidades = decena 100 unidades = decenas 1 centena = unidades

2. Ordena de menor a mayor los siguientes números usando el signo <.

1.205 1.100 1.459 1.845 1.056 1.698 1.345

.....


3. Escribe los nombres de estas líneas.



.....
.....



.....
.....



.....
.....



.....
.....

4. Completa las fracciones.



3 decímetros $\rightarrow \frac{3}{10} \rightarrow 0,3$



..... decímetros $\rightarrow \frac{\text{---}}{\text{---}} \rightarrow \text{---}$



..... decímetros $\rightarrow \frac{\text{---}}{10} \rightarrow \text{---}$



..... decímetros $\rightarrow \frac{\text{---}}{\text{---}} \rightarrow \text{---}$

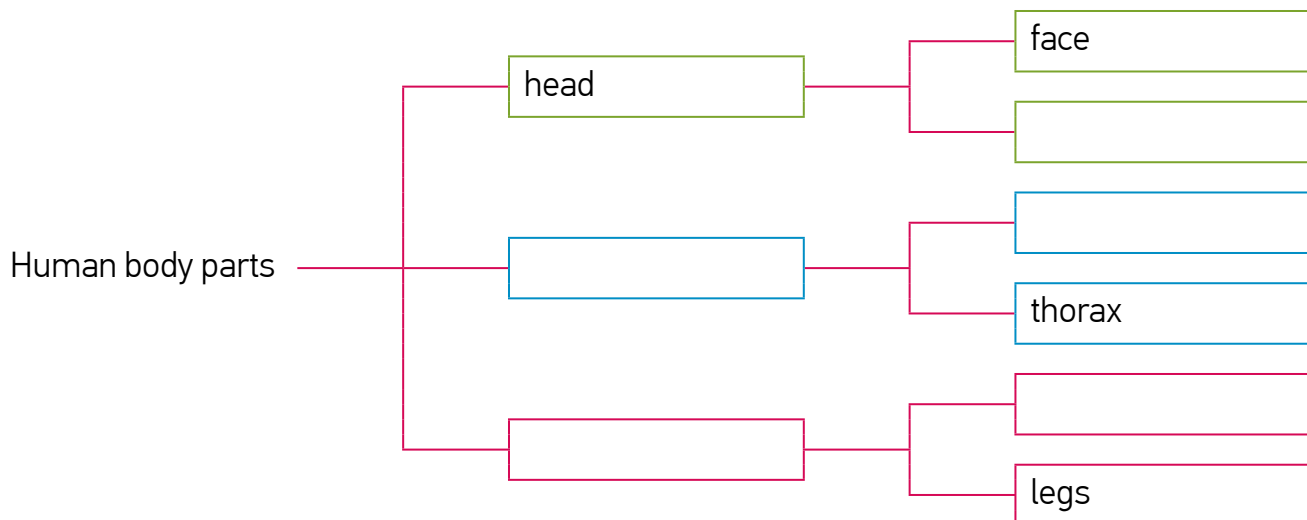
5. Completa las series.





1. Fill in the gaps with these words. Colours can help you.

arms skull abdomen torso extremities



2. Match.

hearing •

• nose •



smell •

• mouth •



touch •

• ear •



taste •

• eye •



sight •

• hand •



3. Order the letters in colour to form words.

• The part of your body where your arm is connected.

HOUSLEDR

• The joint or region in the middle part of the human leg.

NKEE

• A large muscle of the front of the upper arm.

IBCPES

1. Lee y clasifica las palabras con r que hay en el siguiente texto.

La carretera que llevaba al restaurante tenía muchas curvas. Mi hermana Laura se mareó y tuvimos que parar en el arcén un rato. Cuando se recuperó, retomamos la marcha y, aun así, llegamos a la hora acordada.

r suave	r fuerte
.....
.....
.....

2. Escribe los signos ¡ ! y ¿ ? que faltan.

- Ni se te ocurra moverte.....
- Por qué.....
- Porque justo a tu derecha hay una rata enorme.....
- Pues asústala cuanto antes, por favor.....



3. Rellena esta ficha de libro con los datos del último que hayas leído.

Título:	Autor/a:
Ilustrador/a:	Editorial:
Año de publicación:	
Género: <input type="checkbox"/> poesía <input type="checkbox"/> novela <input type="checkbox"/> teatro	
Número de páginas:	
Resumen del argumento:	
.....	
.....	

4. Escribe varios mensajes en estos pósits destinados a un familiar.

.....

.....

.....

.....

.....

.....

.....

.....

.....

.....


.....

.....



1. ¿Qué hacen los niños? Observa el dibujo y ordena las reglas del juego.

LA RAYUELA



© Montse Español

- El primer jugador o jugadora lanza el tejo en el cuadro número 1.
- Dibuja la rayuela y numera los cuadros.
- Gana quien completa todo el recorrido dibujado.
- Ve pasando el tejo a la pata coja de un cuadro a otro empujándolo con el pie.
- Recuerda que no debes pisar las rayas, ni con el tejo ni con el pie.

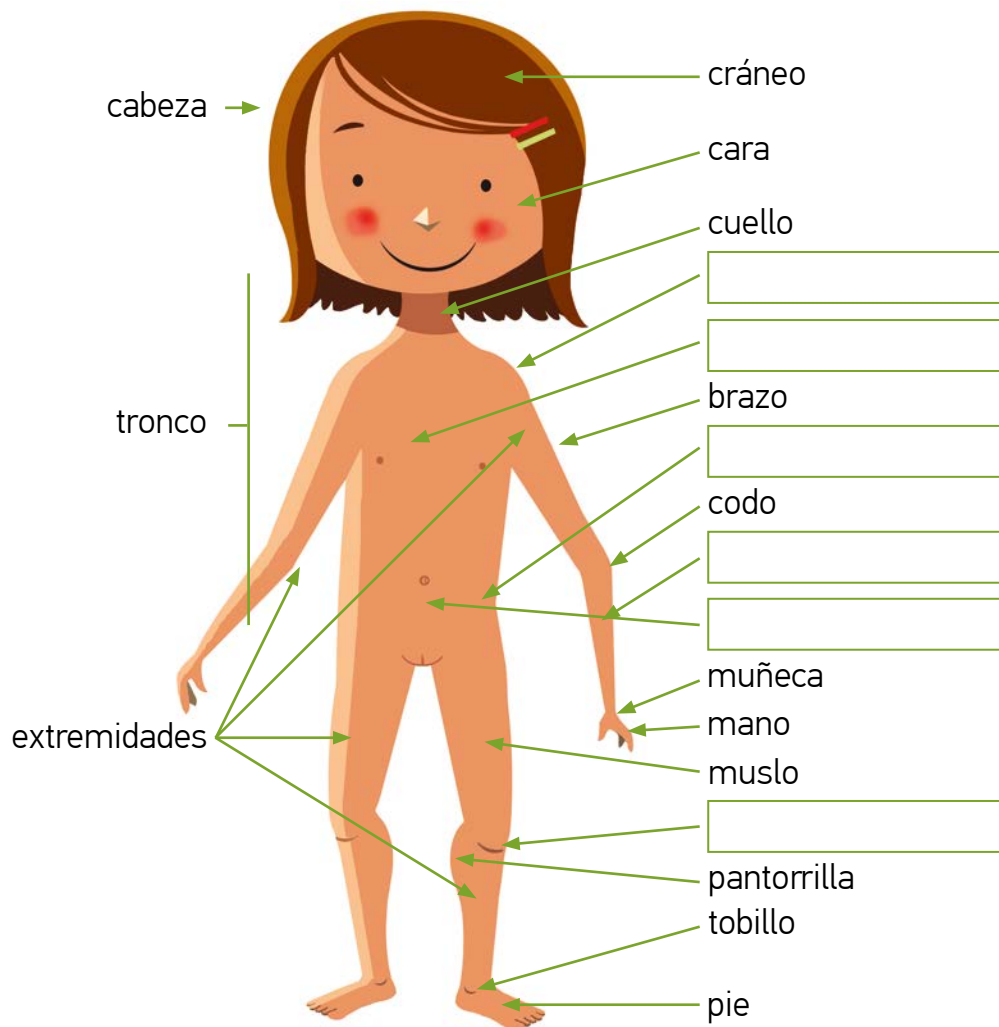
2. Observa, piensa y completa.





1. Completa el dibujo con los nombres de las partes del cuerpo que faltan.

cadera rodilla tórax hombro abdomen antebrazo



2. Clasifica los nombres de estos huesos según la parte del cuerpo donde se encuentran.

fémur cráneo cúbito peroné radio mandíbula tibia húmero

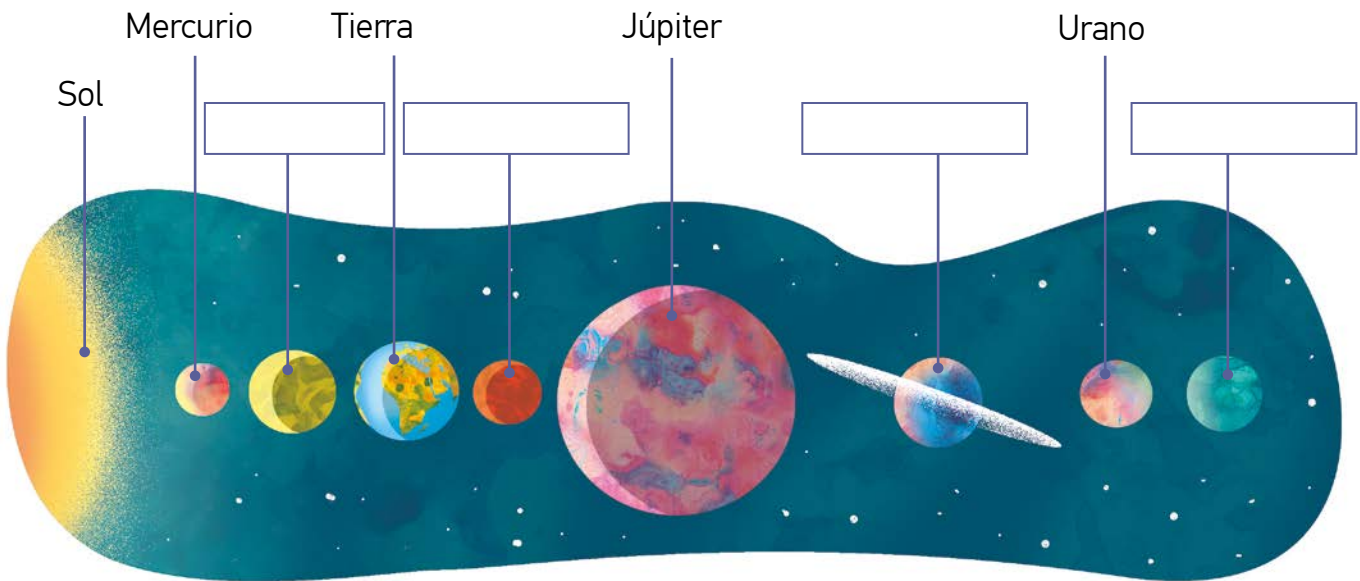
Cabeza	Brazo	Pierna
.....
.....

3. Relaciona los siguientes órganos con los sistemas a los que pertenecen.

- | | |
|--|---------------------------------|
| Lengua, estómago e intestino grueso • | • Sistema urinario |
| Testículos y escroto • | • Sistema circulatorio |
| Fosas nasales, faringe y laringe • | • Sistema reproductor masculino |
| Ovarios, útero, vagina y vulva • | • Sistema respiratorio |
| Corazón, arterias, venas y capilares • | • Sistema digestivo |
| Riñones, uréteres, vejiga y uretra • | • Sistema reproductor femenino |



1. Completa el dibujo con los planetas que faltan.



2. Indica a qué estación corresponde cada una de las siguientes descripciones.

- Hace calor. Los árboles están cubiertos de hojas. Los días son más largos. →
- Muchos árboles se quedan sin hojas. Hace más frío. Los días son más cortos. →
- Los campos se llenan de flores e insectos. Los árboles tienen hojas nuevas. →
- Comienza a refrescar. Caen las hojas de los árboles. Es época de lluvias. →

3. Relaciona y completa el dibujo con las partes que faltan.

hidrosfera núcleo corteza atmósfera manto superior

- La atmósfera • es la parte sólida de la Tierra.
- La geosfera • está formada por los océanos, mares, ríos y lagos.
- La hidrosfera • es la capa gaseosa que rodea la Tierra.

CAPAS DE LA TIERRA

