

Cuaderno de Vacaciones



1. Observa el mapa lingüístico de l'Estat espanyol i completa la llegenda amb les llengües que es parlen a cada territori.

.....

2. Completa els embarbussaments amb les grafies **b** o **v**. Després, intenta llegir-los tan ràpidament com pugues.

-isc alosc iusqueesc iisc delesc queusque alosc.
-a.....aueuio iiué.
- L'esti.....a que esto.....a Este.....e, no és to.....a ni és te.....a ni esta.....a a l'esti.....a.

3. Consulta un diccionari de sinònims i antònims i completa la taula.

Paraula	Sinònim	Antònim
content		
lluny		
fèrtil		
igual		
legítim		
capacitat		





1. Estos números se han desordenado. Cópialos ordenados de menor a mayor.

231.145.120

412.312.410

231.146.124

321.451.311

321.451.210

..... < < <

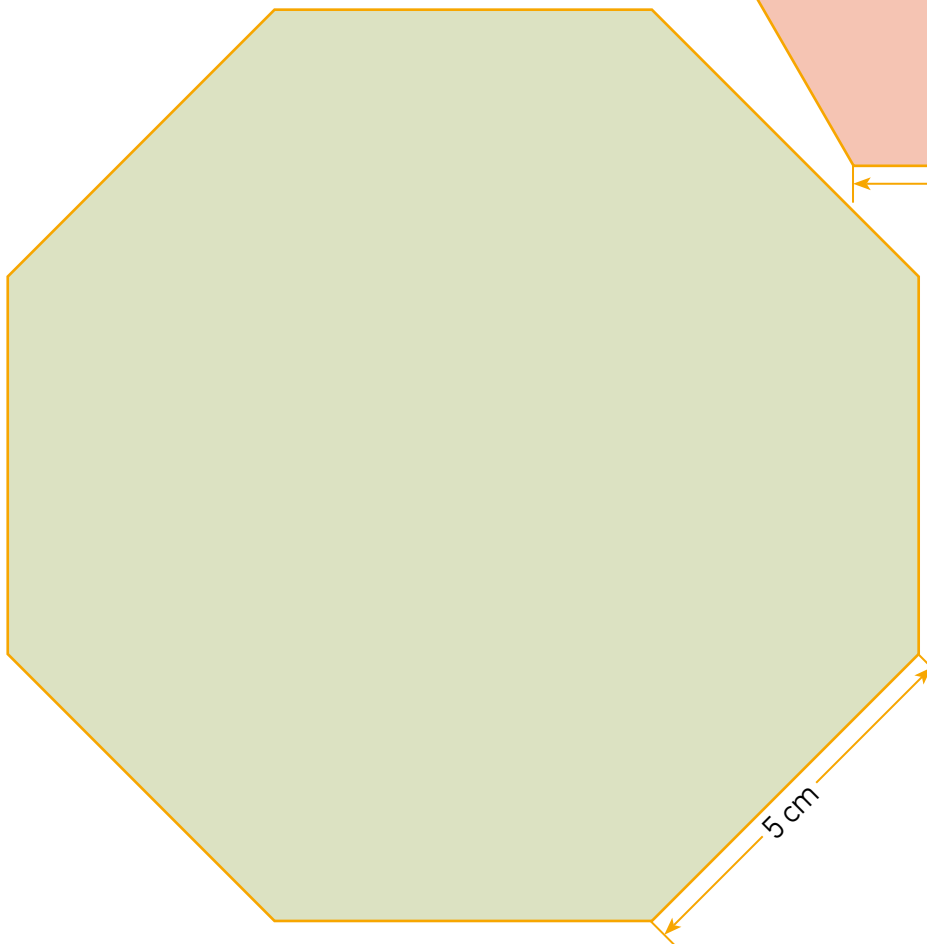
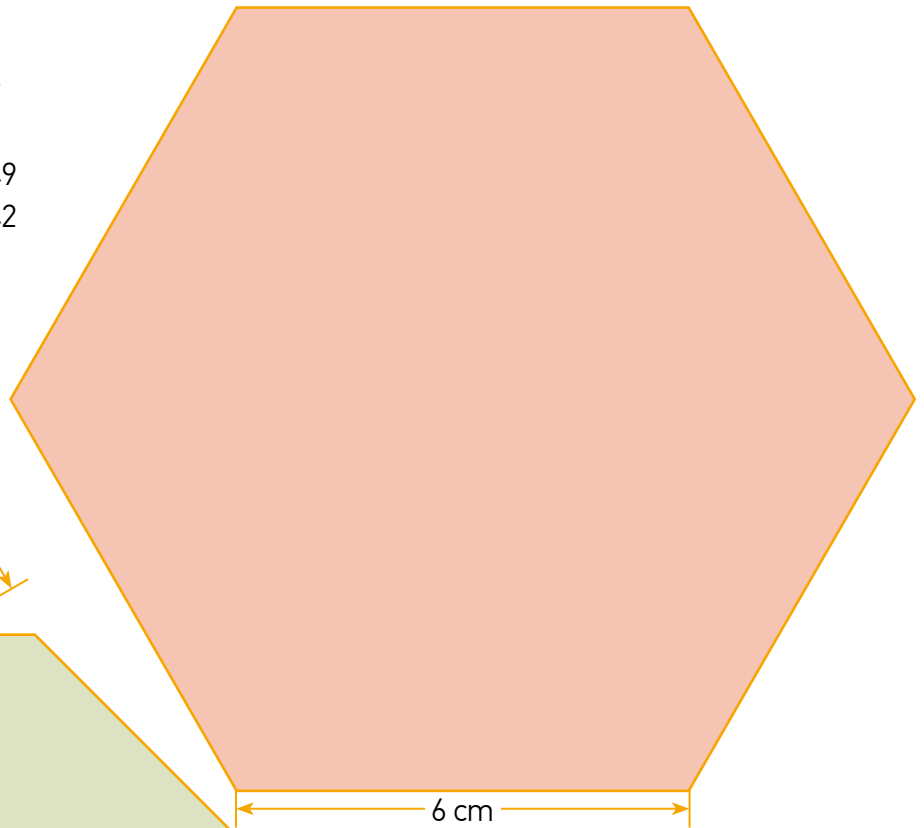
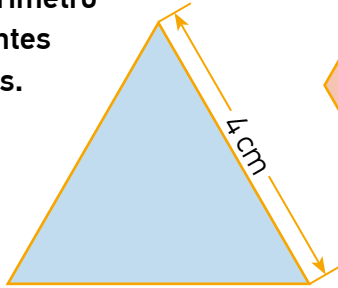
• Escribe con letras el número más grande de los anteriores.

.....

2. Relaciona.

- | | |
|---------------|----------|
| XXXXLIX • | • 3.462 |
| XIVDCCCXLII • | • 194 |
| MMMCDLXII • | • 30.049 |
| CXCIV • | • 14.742 |

3. Calcula el perímetro de las siguientes figuras planas.



El perímetro de una figura plana es la suma de las longitudes de sus lados.




1. Observa la situación comunicativa y completa.



- Emisor:
- Receptor:
- Mensaje:
- Código:
- Canal:

2. Este texto ha perdido algunas tildes. Léelo y corrige las palabras que las necesiten.



Dudo que nadie haya rodado nunca una película en nuestra ciudad, con excepción del video que grabo Alex con su móvil, cuando Justin intentó dar un salto de trampolín desde la marquesina del café del mercado y fue a parar a la fuente de la plaza. En YouTube el video tuvo 5.025 seguidores, uno de los cuales era japonés y dejó un comentario. Su comentario no lo entendió nadie, porque era japonés, pero desde entonces los dos piensan que su futuro está en Asia.

Alex y Justin son mis mejores amigos. También son los únicos, porque no hace mucho tiempo que vivo aquí. No es que sean muy listos, pero son dignos de confianza. Quiero decir que, a veces, lo son.

RÜDIGER BERTRAM. *Coolman y yo. Estrellas de cine*

3. Descifra el mensaje según el código.

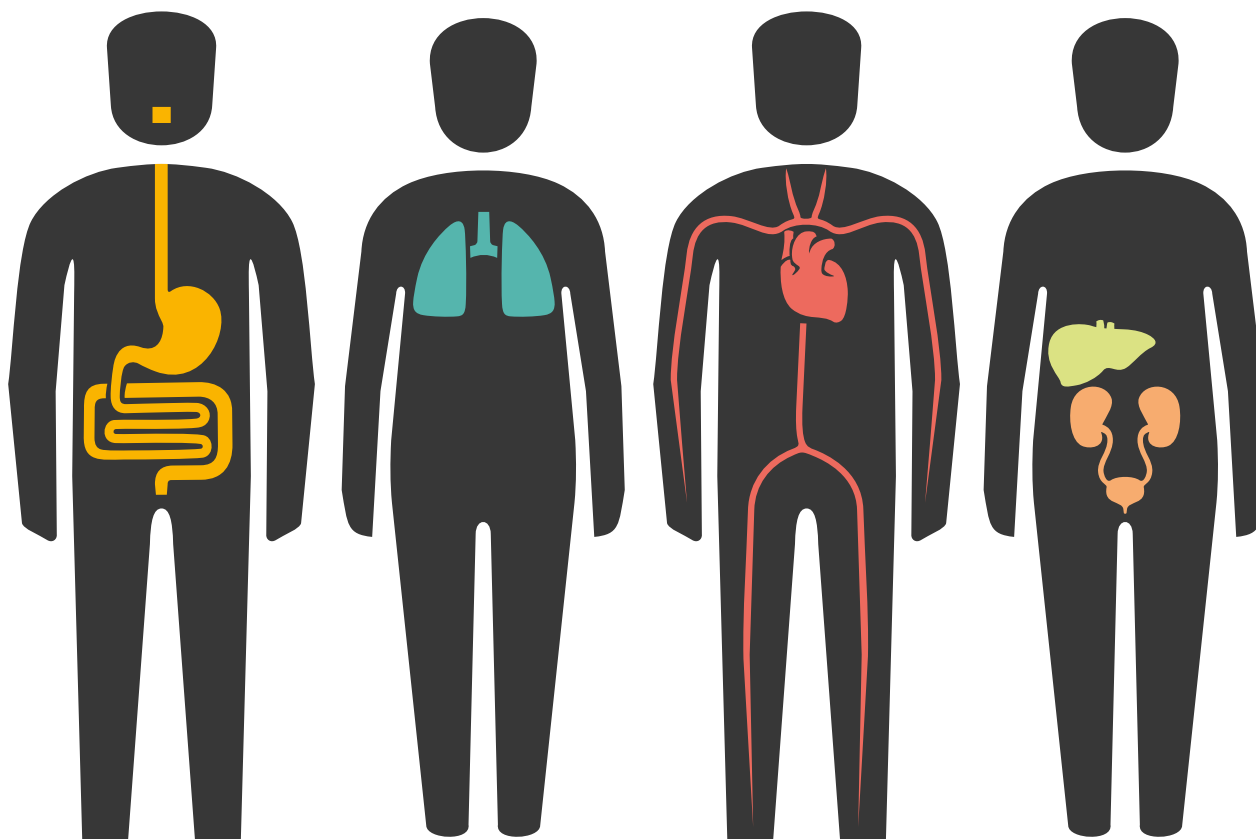
¤	¥	¢	ω	⊙	ψ	φ	ç	ђ	д	τ	∫
A	C	E	F	I	L	N	O	S	V	i	!

τ	ω	¢	ψ	⊙	¥	¢	ђ

д	¤	¥	¤	¥	⊙	ç	φ	¢	ђ	∫



1. Relaciona cada sistema con su nombre y su función.



Respiratorio	Circulatorio	Excretor	Digestivo
Tomar oxígeno del aire para purificar la sangre.	Transportar los nutrientes y las sustancias de desecho.	Eliminar las sustancias de desecho.	Digerir los alimentos.

2. Copia en el lugar correspondiente las siguientes partes de una muela: raíz, esmalte, corona y cuello.



3. Encuentra en la sopa de letras el nombre de seis alimentos saludables.

A	T	Q	S	E	Y	T	Y	O
P	O	S	A	X	O	V	C	L
Z	M	A	R	C	G	B	E	U
B	A	D	D	R	U	I	R	M
U	T	V	I	O	R	U	E	T
I	E	G	N	U	X	C	A	O
O	C	C	A	B	N	U	L	M
N	A	R	A	N	J	A	E	U
M	A	N	Z	A	N	A	S	G

1. Match the words with their definition and complete.

- City • A small town in the country.
- Village • A place in which people live that is larger or more important than a town.
- Town • A place where people live that is larger than a village but smaller than a city.

I live in a (city, village, town) called in the province of I go to the school (walking, by car, by bike...) because it's (near to, far away from, close to...) my house.

2. Write in the correct place these rooms and home equipment.

- dining room sink living room armchair sofa bathroom chair kitchen
 rocking chair microwave shower tablecloth washing machine bath fridge table



3. Complete the crosswords. Pictures can help you.

1

5

2

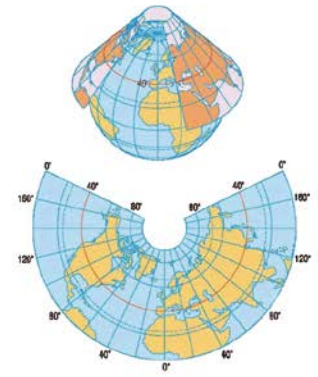
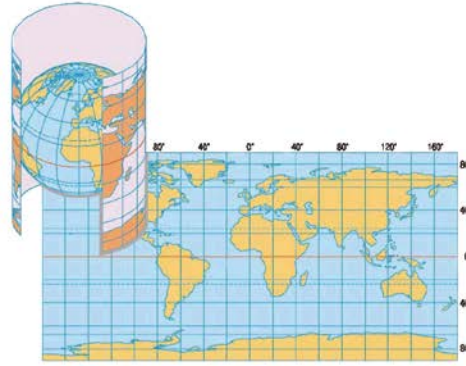
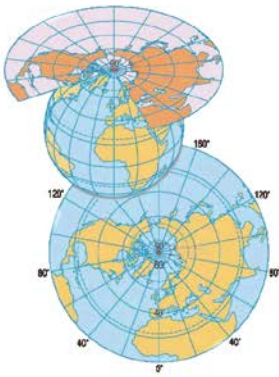
3

4

1	2	3	4	5
G	H			
	L			
E				M
E				E



1. Escribe de qué tipo de proyección cartográfica se trata: cilíndrica, cónica o plana.



2. Identifica en el mapa los elementos siguientes: título, rosa de los vientos, escala y leyenda.



3. Relaciona.

1. Mapa político

2. Mapa temático

3. Mapa físico

